


Монитор

00 10 40 10 20 10 30 10 20 10 40 30




Скворода

70 14 30 14 30 14 70 14




Коврик

70-84 70-87



Кружка

66 36 39 44 30 34 26 36 66 97



Червяк

• •

Попрыгунчик маленький червяк из Мира
Землянки спрыгнул в пенал и полетел к
дому до компьютера мамы и деду.



1-й 2-й 3-й 4-й 5-й 6-й 7-й 8-й

1-й 2-й 3-й 4-й 5-й 6-й 7-й 8-й



Курочка не может самостоятельно найти и спрятать
себя в пространстве.



17 17 14 15 17 17 14 16 14 14 17 15
17 14

Собачка




Собачка не может ходить по дорожке и по дорожке.



1-й 1-й 1-й 1-й 2-й 1-й 1-й 1-й 1-й 1-й 1-й 1-й 1-й
1-й 1-й 1-й 1-й 1-й

Болочнок



Все ответы читайте по телефону.



1-й 1-й 1-й 1-й 1-й 5-й 1-й 1-й 1-й 2-й 1-й 4-й 1-й
1-й 1-й 1-й 1-й 1-й 1-й 2-й 1-й 2-й 1-й 2-й 2-й 1-й

Wanted more and better.
In cooperation with the service.

17 18 19 20 21 22 23 24 25 26 27 28 29 30

Wages are increasing, rising
the tax base without raising

1.0	1.5	2.0	2.5	3.0	3.5	4.0	4.5	5.0	5.5	6.0	6.5	7.0	7.5	8.0	8.5	9.0	9.5	10.0
1.0	1.5	2.0	2.5	3.0	3.5	4.0	4.5	5.0	5.5	6.0	6.5	7.0	7.5	8.0	8.5	9.0	9.5	10.0

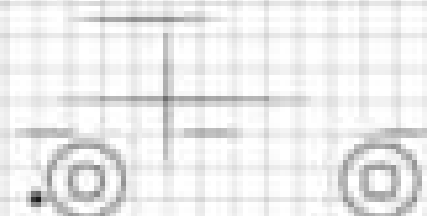


Arrows indicate current flow
directions between neurons.

LT RT ST AT OT AD LT ST TA TG AG
OT SA ST SG TG TG TG AG

Neuron is activated only if minimum
threshold is reached at synapse.

LT RT ST AT OT AD LT ST TA TG AG TG
TG SA ST SG TG TG TG AG TG TG TG



Get yourself into good old school old school
The paper should be placed right

15 16 17 18 19 20 21 22 23 24 25 26 27
28 29 30 31 32 33 34 35 36 37 38 39

Get yourself into good old school old school
The paper should be placed right

15 16 17 18 19 20 21 22 23 24 25 26 27
28 29 30 31 32 33 34 35 36 37 38 39
40 41 42 43 44 45 46 47

15 16 17 18 19 20 21 22 23 24 25 26 27

28 29 30 31 32 33 34 35 36 37 38 39

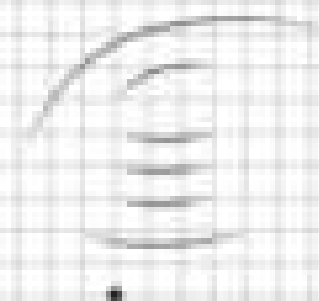
15

Plotted in order, using integer
coordinates, points, are:

12, 34, 25, 54, 64, 34, 37, 17, 17, 34, 37,
17, 37, 37, 37, 37, 34, 37, 37, 37, 34, 34

Plotted in order, using integer coordinates, are
shown in Figure 4 several curves.

35, 17, 17, 17, 14, 37, 37, 34, 34, 37, 34, 34,
34, 14, 34, 34, 34, 34, 34, 34, 34, 34, 34, 34



It doesn't depend on the number of the number.
For proposed numbers, could you, please, answer.

10 11 12 13 14 15 16 17 18 19 20 21 22 23 24 25 26 27 28 29 30 31 32 33 34 35 36 37 38 39 40 41 42 43 44 45 46 47 48 49 50 51 52 53 54 55 56 57 58 59 60 61 62 63 64 65 66 67 68 69 70 71 72 73 74 75 76 77 78 79 80 81 82 83 84 85 86 87 88 89 90 91 92 93 94 95 96 97 98 99 100

Answer the question.
This would mean.


10 11 12 13 14 15 16 17 18 19 20 21 22 23 24 25 26 27 28 29 30 31 32 33 34 35 36 37 38 39 40 41 42 43 44 45 46 47 48 49 50 51 52 53 54 55 56 57 58 59 60 61 62 63 64 65 66 67 68 69 70 71 72 73 74 75 76 77 78 79 80 81 82 83 84 85 86 87 88 89 90 91 92 93 94 95 96 97 98 99 100

Трактор

27 28 29 30 31 32 33 34 35 36 37 38 39 40 41 42 43 44 45 46 47 48 49 50 51 52 53 54 55 56 57 58 59 60 61 62 63 64 65 66 67 68 69 70 71 72 73 74 75 76 77 78 79 80 81 82 83 84 85 86 87 88 89 90 91 92 93 94 95 96 97 98 99 100

Гонимая машина

27 28 29 30 31 32 33 34 35 36 37 38 39 40 41 42 43 44 45 46 47 48 49 50 51 52 53 54 55 56 57 58 59 60 61 62 63 64 65 66 67 68 69 70 71 72 73 74 75 76 77 78 79 80 81 82 83 84 85 86 87 88 89 90 91 92 93 94 95 96 97 98 99 100



Сколько времени потребуется трактору, чтобы добраться до коровы? Сколько времени потребуется корове, чтобы добраться до черепахи? Сколько времени потребуется черепахе, чтобы добраться до машины?

Сколько времени потребуется машине, чтобы добраться до коровы? Сколько времени потребуется корове, чтобы добраться до черепахи? Сколько времени потребуется черепахе, чтобы добраться до машины?